

**ROTEIRO FINAL DE RECUPERAÇÃO DO 2º
TRIMESTRE (ATIVIDADES COMPLEMENTARES DE
ESTUDO – COVID 19**

SALA DE RECURSOS MULTIFUNCIONAL



ESCOLA MUNICIPAL PROFESSOR SEBASTIÃO FELTRIN

TURNO: Manhã

COMPONENTES CURRICULARES: 3º ANO LÍNGUA PORTUGUESA/ MATEMÁTICA

PROFESSORA: Marcia Novaes

PERÍODO DE REALIZAÇÃO: 04 a 11 de dezembro

DEVOLVIDO NO DIA: ___ / ___ / ___

ALUNO (A): _____ TURMA: _____

Senhores Pais e Responsáveis

Vocês estão recebendo um **ROTEIRO DE RECUPERAÇÃO FINAL REFERENTE AO 2º TRIMESTRE - Atividades complementares de estudo para o período de isolamento – COVID 19**. Contamos com sua participação para que todas essas atividades sejam realizadas e assim possamos atribuir presença e anexar as tarefas no portfólio do estudante. É importante que o vínculo do aluno com os estudos não seja interrompido, apesar das dificuldades em relação as atividades remotas. Qualquer dúvida estamos a disposição no WhatsApp.

Pedagogas

O QUE VAI ESTUDAR?	<ul style="list-style-type: none">➤ <u>LÍNGUA PORTUGUESA E MATEMÁTICA</u>➤ CONSCIÊNCIA FONOLÓGICA: LINGUAGEM E ESCRITA, ATENÇÃO, LEITURA, FORMAÇÃO DE FRASES PERCEPÇÃO VISUAL, ORGANIZAÇÃO DE PENSAMENTO➤ SITUAÇÕES PROBLEMAS, OPERAÇÕES, NUMERAÇÃO
PARA QUÊ VAMOS ESTUDAR ESSES CONTEÚDOS?	LÍNGUA PORTUGUESA E MATEMÁTICA: <ul style="list-style-type: none">➤ DESENVOLVER A LEITURA➤ FORMAR FRASES, ESCREVER CORRETAMENTE AS PALAVRAS➤ DESENVOLVER ATENÇÃO, ORGANIZANDO O PENSAMENTO NA ORDEM DOS ACONTECIMENTOS➤ DESENVOLVER ESTRATÉGIAS PARA SOLUCIONAR SITUAÇÕES PROBLEMAS NA VIDA COTIDIANA➤ ASSOCIAR NÚMERO A QUANTIDADE
COMO VAMOS ESTUDAR ESSES CONTEÚDOS?	<ul style="list-style-type: none">➤ LEIA ATENTAMENTE TODAS AS INSTRUÇÕES DE CADA ATIVIDADE, PARA DEPOIS REALIZÁ-LAS.➤ CASO TENHA DÚVIDAS ENTRE EM CONTATO COM SEU PROFESSOR, PELO WHATSAPP. NÃO DEIXE NADA EM BRANCO, SEM FAZER.

**COMO VAMOS REGISTRAR
O QUE APRENDEMOS?**

➤ REALIZANDO NO PRÓPRIO ROTEIRO TODAS AS ATIVIDADES PROPOSTAS, COM LETRA LEGÍVEL E CAPRICHOS.

ROTEIRO FINAL DE RECUPERAÇÃO DE ESTUDOS 2º TRIMESTRE PARA 3º ANO- LÍNGUA PORTUGUESA E MATEMÁTICA

LEIA COM ATENÇÃO E RESPONDA AS QUESTÕES:

A CIGARRA E A FORMIGA - 1



A CIGARRA E A FORMIGA

A CIGARRA PASSOU TODO O VERÃO CANTANDO, ENQUANTO A FORMIGA JUNTAVA SEUS GRÃOS.

QUANDO CHEGOU O INVERNO, A CIGARRA VEIO À CASA DA FORMIGA PARA PEDIR QUE LHE DESSE O QUE COMER.

A FORMIGA ENTÃO PERGUNTOU A ELA:

- E O QUE É QUE VOCÊ FEZ DURANTE TODO O VERÃO?

- DURANTE O VERÃO, EU CANTEI - DISSE A CIGARRA.

E A FORMIGA RESPONDEU:

- MUITO BEM, POIS AGORA DANCE!

*Fábulas de Esopo,
adaptação de Ruth Rocha. Melhoramentos.*

O que a cigarra fez durante todo o verão

- Dançou
- Cantou
- Pulou



Os personagens principais do texto são:


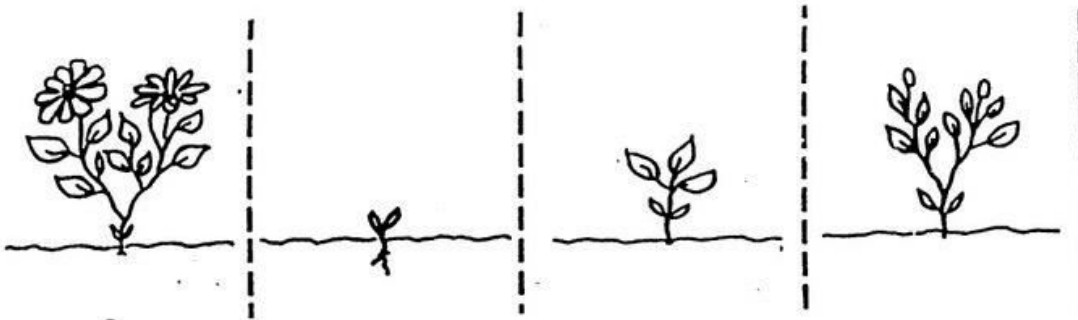
- A cegonha e a formiga
- O tatu e o macaco
- A onça e o coelho
- A cigarra e a formiga.

COPIE DO TEXTO PALAVRAS ESCRITAS COM:

F _____













V _____

ORGANIZE AS IMAGENS NA SEQUÊNCIA ESCRREVENDO NÚMEROS 1,2,3,4 E DEPOIS FAÇA UMA FRASE.



COPIE AS PALAVRAS DO QUADRO E ESCREVA EMBAIXO DO DESENHO CORRESPONDENTE.

SARDINHA - FARINHA - GALINHA - LINHA - PIRANHA - RAINHA - VINHO - MINHOCA - NINHO - PINHEIRO - CEGONHA -PAMONHA

VAMOS LÁ FAÇA COMO O MODELO:

1) DE PULO EM PULO, AJUDE OS CANGURUS NESTA BRINCADEIRA. JÁ COMECEI.

+ 2	
2	4
3	
1	
0	

- 1	
5	4
3	
4	
2	

+ 3	
0	3
1	
2	
3	



Leia com atenção e resolva as situações problemas.

Dona Benta tem 72 anos e Pedrinho 13 anos. Quantos anos eles tem juntos?

Resposta: _____

Pedrinho tem uma coleção de 95 pedrinhas e a Emília perdeu 13 pedrinhas dele.
Com quantas pedrinhas Pedrinho ficou?

Resposta _____

